

# Да си припомним

## Въпроси с прозвучаване на музика

1

Определете музиката като авторска или народна:


Пример 1 .....

Пример 2 .....

Пример 3 .....

2

Определете на коя от снимките е изобразен солиращият инструмент в музикалния пример:



Солиращият инструмент е ..... ?

Той е най-големият клавишно- ..... ? музикален  
инструмент. Неговият звук е ..... ?

3

Свържете музикалните пример с подходящия характер на музиката:

Пример 1 .....

а) маршов

Пример 2 .....

б) танцувален

Пример 3 .....

в) песенен

## Въпроси без прозвучаване на музика

4

Знакът  се нарича:

а) петолиние

б) нота

в) сол ключ

5

Знакът  се поставя:

а) в началото на петолинието

б) в края на петолинието

в) на произволно място

Разчетете ребуса и запишете изречението, което получихте:



Запишете на петолинието останалите ноти по височина като половини:

---

---

---

---


Знакът  се нарича:

**в) четвъртина нота**



Цялата нота трае:

### в) четири времена

Оградете излишните ноти в музикалния пример:



Свържете танците с подходяща графична схема.



**ръченица**

## САМООЦЕНКА

Мога и  
повече